


lundi 15 juin 2020



1 Indique la nature des mots de ces phrases. Détermine ensuite leur fonction.

Aide-mémoire



10 min

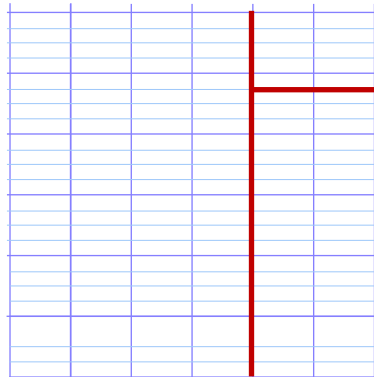
De minuscules dents recouvrent la peau

des requins. Celle-ci a une texture râpeuse.



2 Calcule.

$5\ 762 \div 4 =$ →



★ $36 \div 2 =$	★ $24 \div 4 =$
★★ $25 \div 5 =$	★★ $64 \div 8 =$
★★★ $2,5 \div 5 =$	★★★ $1,6 \div 4 =$

10 min



3 Essaie de résoudre ces problèmes.

L'apprenti d'un menuisier a effectué ses mesures en mm. Peux-tu les transformer en centimètres ?

- ★ 280 mm ↔ cm
- ★ 1 400 mm ↔ cm
- ★ 6 030 mm ↔ cm

Je pense à deux nombres. Si je les additionne, j'obtiens 50. Si je calcule leur différence, j'obtiens 20. **Quels sont ces deux nombres ?**

10 min



4 Observe et continue de la même manière.



5 Repère les mots que tu connais déjà et essaie de répondre à l'énigme.

Monochrome photography
uses and colours.

Vocabulaire

- ★ to use : utiliser
- ★★★ complicated : compliqué
- ⊗ a board : un plateau
- ★★ a square : un carré

5 min



6 Inscris ci-dessous les réponses aux quatre dernières énigmes, puis essaie de trouver ce qui relie ces mots.

Tuesday	Thursday	Friday	Monday	link

CLUE : A very complicated board game with squares.



7 Les réseaux de communication en France ②

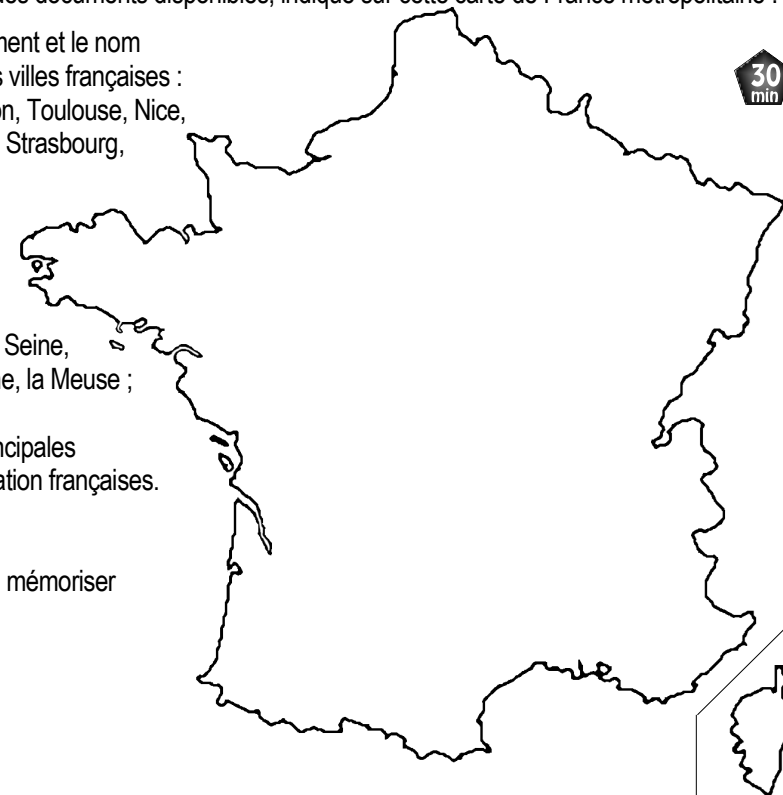
En t'aidant des documents disponibles, indique sur cette carte de France métropolitaine :

– en vert l'emplacement et le nom des 10 plus grandes villes françaises : Paris, Marseille, Lyon, Toulouse, Nice, Nantes, Montpellier, Strasbourg, Bordeaux, Lille ;

– en bleu, le tracé et le nom des 5 plus grands fleuves : la Loire, la Seine, le Rhône, la Garonne, la Meuse ;

– en orange, les principales voies de communication françaises.

Entraîne-toi à les mémoriser et à les localiser.



30 min