




1 Indique la nature des mots de ces phrases. Détermine ensuite leur fonction.

Aide-mémoire



10 min

Nous nous retrouvons les jours d'école, sur un site

SUJET COD VERBE COMPL. CIRCONST. DE TEMPS C. CIRC. DE LIEU

de visioconférence, grâce à nos webcams.

COMPLÈMENT CIRCONST. DE LIEU (SUITE) COMPLÈMENT CIRCONSTANCIEL DE MOYEN

Complément du nom "site"



2 Calcule.

$$58\,014 - 49\,712 = 8\,302$$

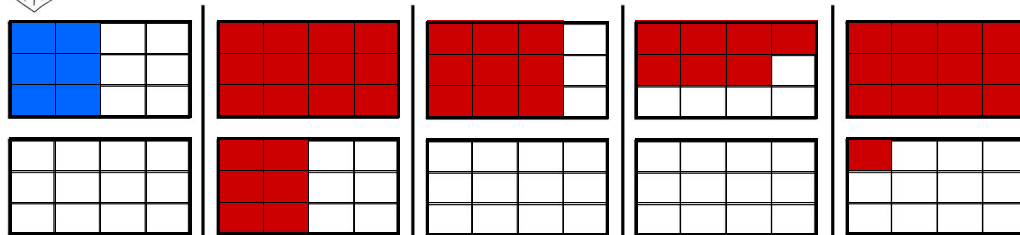
540 × 2 = 1 080	83 × 2 = 166	43 × 3 = 129
3 × (9 - 2) = 21	4 × (4 - 2) = 8	(6 - 3) × (2 - 2) = 0
8,8 × 2 = 17,6	5,08 ÷ 10 = 0,508	4,3 × 3 = 12,9

4	5	1	8	10	1	4
-	4	9	7	1	2	
0	8	3	0	2		

5 min



3 Colorie la fraction indiquée (un rectangle est considéré comme une unité).



numérateur ↘
exemple : $\frac{1}{2}$
déterminateur ↗

$\frac{3}{2}$

réponse possible

$\frac{3}{4}$

réponse possible

$\frac{7}{12}$

réponse possible

$\frac{13}{12}$

réponse possible

5 min



4 Repère les mots que tu connais déjà et essaie de répondre à l'énigme.

2 min

What type of black and white animal was Mumble in the film "Happy Feet"? *a penguin*



5 Lis ce texte, puis effectue l'activité indiquée (✎).

15 min

Les reliefs de la Terre ①

Quelle type d'animal noir et blanc était Mumble dans le film "Happy Feet"? *Un manchot*

La surface des continents et des océans ainsi que leur disposition évolue en permanence. Ces modifications sont cependant difficiles à percevoir par les Humains, car elles s'étendent sur des millions d'années.

Les grandes formes de relief

♦ **Les plaines** sont des surfaces planes ou légèrement vallonnées. Elles peuvent être parcourues par de grands cours d'eau (peu encaissés). Elles se trouvent à basse altitude. Les plus proches des mers et des océans sont appelées "**plaines littorales**". Le mot plaine vient du latin "*planus*", qui signifie "*plat*".

♦ **Les plateaux** sont des régions planes, situées en altitude. Ils sont souvent marqués par de profondes vallées, au fond desquels peuvent se trouver des cours d'eau.

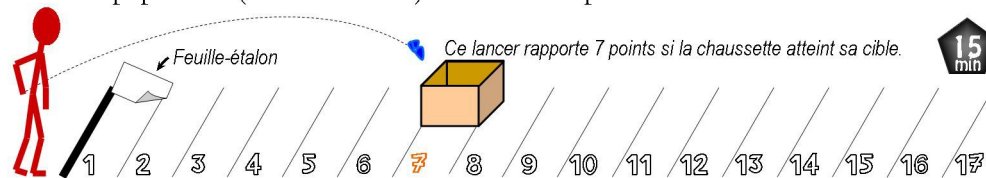
♦ **Les montagnes** forment généralement de longues chaînes. Elles sont généralement peu peuplées car les conditions de vie y sont rudes (températures peu élevées, végétation rare).

✎ Recherche sur Internet et note dans ce tableau le nom et l'altitude du plus haut sommet de chaque continent.

Continent	Nom du sommet	Altitude
Afrique	Kilimandjaro	5 892 m
Asie	Everest	8 848 m
Amérique	Aconcagua	6 959 m
Europe	Elbrouz	5 642 m
Océanie	Puncak Jaya	4 884 m



6 À l'aide de chaussettes roulées en boule et d'une boîte en carton, entraîne-toi à marquer un maximum de points en 10 lancers. À toi de choisir l'emplacement du panier : plus il est loin, plus un lancer réussi rapporte de points. La longueur d'une feuille de papier A4 (environ 30 cm) sert d'étalon pour choisir la distance de la boîte.



15 min