


# vendredi 20 mars 2020



1 Complète cette grille de mots croisés à partir des fiches de cette semaine.



## DÉFINITIONS HORIZONTALEMENT

2. Animal invertébré dont le corps est formé de segments articulés. 19 ADEHOOPRRT  
 7. Mammifère ovipare au corps couvert de poils ou de piquants (ornithorynque...). 19 EÈMMNOORT  
 9. Nombre d'habitants par kilomètre carré. 16 DEÉINST  
 11. Animal dont l'espèce se reproduit en pondant des œufs.. 19 AEIOPRV  
 13. Suite de souverains (rois) d'une même famille. 17 ADEINSTY  
 14. Une des deux extrémités de l'axe imaginaire de rotation de la Terre (Nord ou Sud). 16 ELÔP  
 15. Corps céleste (étoile, planète, satellite naturel, astéroïde...). 17 AERST

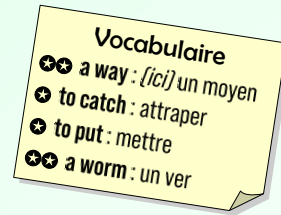
## VERTICALEMENT

1. *Trouver* (en anglais). 19 OT DFIN  
 2. Ensemble constitué d'une ville et de ses banlieues. 16 AAÉGGILMNOORT  
 3. Animal dont les petits viennent au monde entièrement développés. 19 AEIIPRVV  
 4. Roi des Francs-Saliens puis de tous les Francs (né vers 466 – mort en 511). 17 CILOSV  
 5. Petit d'une espèce qui n'est plus un embryon mais n'est pas encore né. 19 FCESTU  
 6. Animal vertébré qui respire avec des poumons et rampe. Il a souvent des écailles 19 EEILPRT  
 8. *Bateau* (en anglais). 17 ABOT  
 10. Ensemble des religieux d'une région ou d'un pays. 17 CEÉGLR  
 12. *Jeu* (en anglais). 19 AEGM



2 Repère les mots que tu connais déjà et essaie de répondre à l'énigme.

The best way to catch a fish  
is to put a worm on a \_\_\_\_\_ .



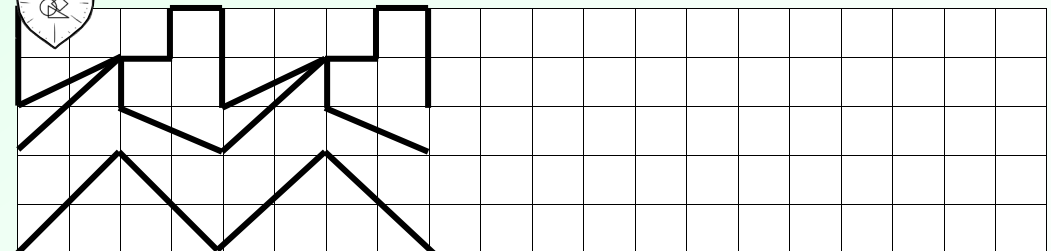
3 Inscris ci-dessous les réponses des quatre énigmes de la semaine, puis essaie de trouver ce qui relie ces mots.

Monday	Tuesday	Thursday	Friday	link

CLUE : Get this wrong and you will have to walk on the plank...



4 Poursuis cette frise et colorie-la.



5 Essaie de résoudre ces problèmes. Laisse tes calculs visibles.

Dans une école de 207 élèves, 23 portent des lunettes. **Combien d'élèves n'ont pas de lunettes ?**

Un hôpital vient de recevoir 13 cartons de masques de protection. Chaque carton contient 10 boîtes de 50 masques. **Combien l'hôpital a-t-il reçu de masques ?**