

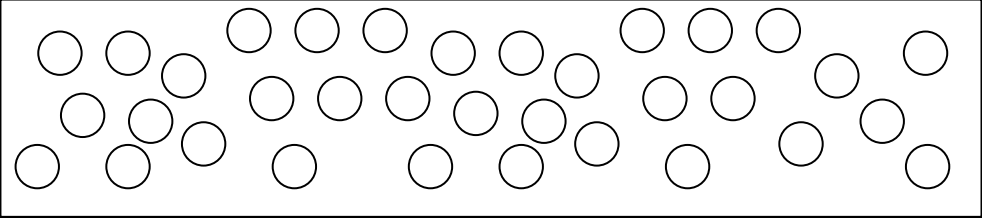
Rappel

➤ Le **double** d'un nombre est ce nombre multiplié par 2. **Exemples** : Le double de 6 est 12. – 30 est le double de 15.

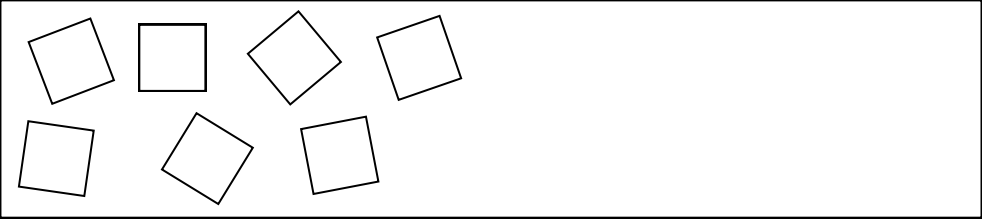
➤ La **moitié** d'un nombre (ou le demi) est ce nombre partagé en deux parties égales. **Exemples** : La moitié de 6 est 3. – 14 est la moitié de 28.

Activités

1. La moitié de ces cercles est verte. L'autre moitié est orange. Colorie-les.



2. Dessine les carrés manquants pour qu'il y en ait le double.



3. Complète ces phrases.

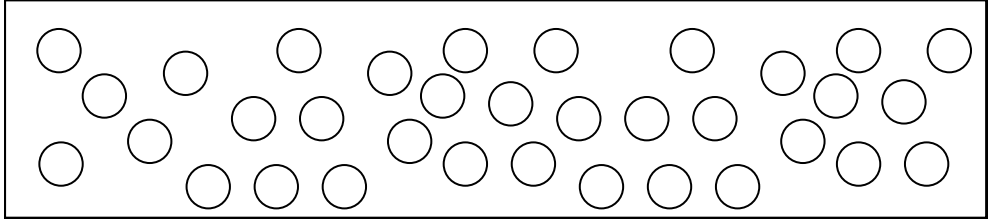
- | | |
|------------------------------|------------------------------|
| ★ Le double de 13 est | ★ Le double de 25 est |
| ★ La moitié de 22 est | ★ La moitié de 18 est |
| ★ 40 est la moitié de | ★ Le double de 200 est |
| ★ La moitié de 60 est | ★ La moitié de 2 est |
| ★ 100 est le double de | ★ 102 est le double de |
| ★ 500 est la moitié de | ★ La moitié de 300 est |

➤ Le **double** d'un nombre est ce nombre multiplié par 2. **Exemples** : Le double de 6 est 12. – 30 est le double de 15.

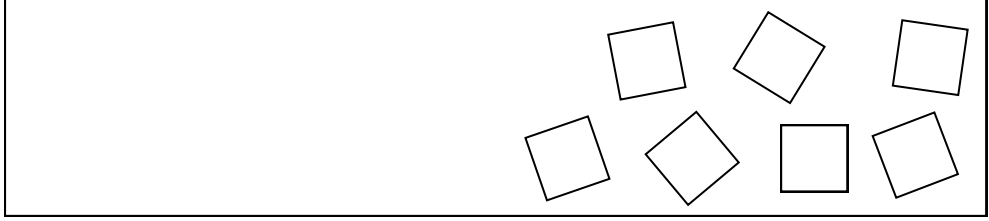
➤ La **moitié** d'un nombre (ou le demi) est ce nombre partagé en deux parties égales. **Exemples** : La moitié de 6 est 3. – 14 est la moitié de 28.

Activités

1. La moitié de ces cercles est verte. L'autre moitié est orange. Colorie-les.



2. Dessine les carrés manquants pour qu'il y en ait le double.



3. Complète ces phrases.

- | | |
|------------------------------|------------------------------|
| ★ Le double de 25 est | ★ Le double de 13 est |
| ★ La moitié de 18 est | ★ La moitié de 22 est |
| ★ Le double de 200 est | ★ 40 est la moitié de |
| ★ La moitié de 2 est | ★ La moitié de 60 est |
| ★ 102 est le double de | ★ 100 est le double de |
| ★ La moitié de 300 est | ★ 500 est la moitié de |